

**Inhalt**

**Zahlenraum 10**

Zuzählen im Zahlenraum 10 ..... 8  
 Ergänzen im Zahlenraum 10 ..... 18  
 Wegzählen im Zahlenraum 10 ..... 24

**Zahlenraum 10 bis 20**

Zuzählen im Zahlenraum 10 bis 20 ..... 32  
 Ergänzen im Zahlenraum 10 bis 20 ..... 38  
 Wegzählen im Zahlenraum 10 bis 20 ..... 44

**Zahlenraum 20 mit Zehnerunterschreitung /  
 Zehnerüberschreitung**

..... 50

**Zahlenraum 30**

..... 58

**Ganze Zehner**


..... 68


**Maße**


Längenmaße ..... 76  
 Gewichtsmaße ..... 86  
 Maßeinheit Liter ..... 94  
 Zeitmaße ..... 102

**Malreihen und Teilungsrechnungen**

Malreihe von 2 ..... 112  
 Teilungsrechnungen ..... 117  
 Malreihe von 10 ..... 124  
 Teilungsrechnungen ..... 128  
 Malreihe von 5 ..... 134  
 Teilungsrechnungen ..... 140  
 Malreihe von 4 ..... 146  
 Teilungsrechnungen ..... 151  
 Malreihe von 3 ..... 156  
 Teilungsrechnungen ..... 162  
 Malreihe von 6 ..... 168  
 Teilungsrechnungen ..... 176  
 Malreihe von 8 ..... 184  
 Teilungsrechnungen ..... 190  
 Malreihe von 9 ..... 196  
 Teilungsrechnungen ..... 203  
 Malreihe von 7 ..... 210  
 Teilungsrechnungen ..... 217  
 Malreihe von 0 ..... 224  
 Lösungen ..... 226

Rechnungen, die mit einem  versehenen sind, haben einen kürzeren und einfacheren Text. Die Antwortsätze sind auch schon vorgegeben.

 In dieses Symbol wird eine Zahl geschrieben.

 In dieses Symbol wird ein Rechenzeichen eingetragen.

F = Hier schreibst du die Frage.

R = Hier schreibst du die Rechnung.

A = Hier schreibst du die Antwort.