



Name: _____

Klasse: _____

Datum: _____

8. Aufgaben vom Typ

$$A \cdot B + C = \underline{\quad}$$

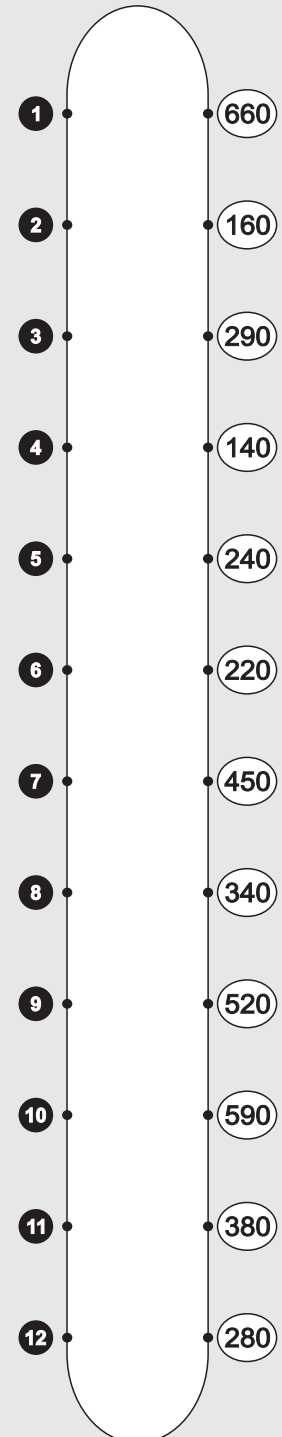
Übertrage die Aufgaben aus den Tabellen unten in die freien Felder und rechne sie aus! Verbinde rechts jede Aufgabennummer mit der zugehörigen Lösungszahl! Wenn du alles richtig rechnest, entsteht im Kontrollbild ein symmetrisches Muster.

·	50	60	70	+
6			5	30
2	4	2		40
9			3	30
5	1	6		40

·	50	60	70	+
8			12	30
4	7	10		40
7	11		9	30
3		8		40

1	$5 \cdot 50 + 40 =$	2	$2 \cdot 60 +$
3	9 ·	4	
5		6	
7		8	
9		10	
11		12	

Kontrollbild





Name: _____

Klasse: _____

Datum: _____

8. Aufgaben vom Typ $A \cdot B + C = _ _ _$ (Lösung)

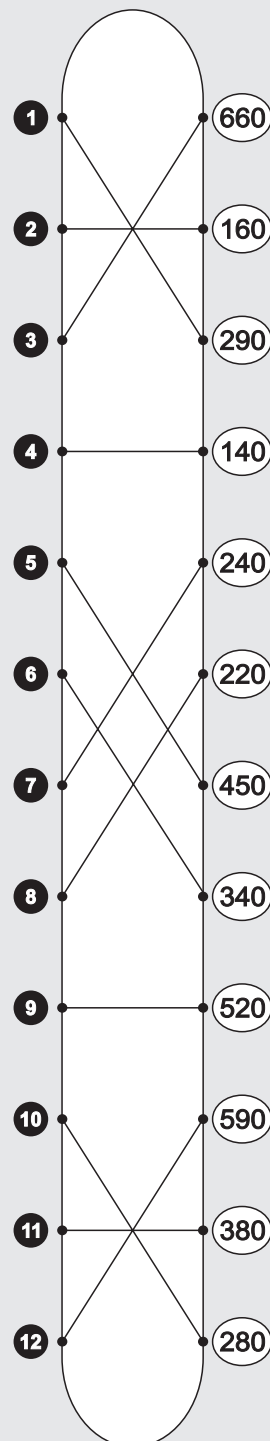
Übertrage die Aufgaben aus den Tabellen unten in die freien Felder und rechne sie aus! Verbinde rechts jede Aufgabennummer mit der zugehörigen Lösungszahl! Wenn du alles richtig rechnest, entsteht im Kontrollbild ein symmetrisches Muster.

·	50	60	70	+
6			5	30
2	4	2		40
9			3	30
5	1	6		40

·	50	60	70	+
8			12	30
4	7	10		40
7	11		9	30
3		8		40

1 $5 \cdot 50 + 40 = 290$	2 $2 \cdot 60 + 40 = 160$
3 $9 \cdot 70 + 30 = 660$	4 $2 \cdot 50 + 40 = 140$
5 $6 \cdot 70 + 30 = 450$	6 $5 \cdot 60 + 40 = 340$
7 $4 \cdot 50 + 40 = 240$	8 $3 \cdot 60 + 40 = 220$
9 $7 \cdot 70 + 30 = 520$	10 $4 \cdot 60 + 40 = 280$
11 $7 \cdot 50 + 30 = 380$	12 $8 \cdot 70 + 30 = 590$

Kontrollbild





Name: _____

Klasse: _____

Datum: _____

13. Aufgaben vom Typ A·B-C=

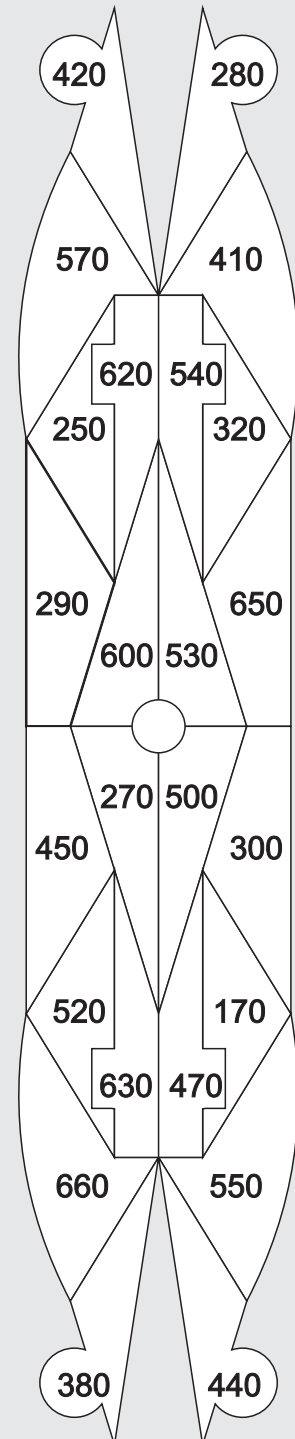
Übertrage die Aufgaben aus den Tabellen unten in die freien Felder und rechne sie aus! Male rechts im Kontrollbild alle Felder mit den Lösungszahlen farbig aus! Wenn du alles richtig rechnest, entsteht im Kontrollbild ein symmetrisches Muster.

·	70	50	90	-
5			5	30
6	4		2	40
7		6	3	30
8	1			40

·	60	40	80	-
5	8	9		30
6			10	40
7		11	7	30
8		12		40

1	2
$8 \cdot 70 - 40 =$	$6 \cdot 90 -$
3	4
7 ·	
5	6
7	8
9	10
11	12

Kontrollbild





Name: _____

Klasse: _____

Datum: _____

13. Aufgaben vom Typ A·B-C=___ (Lösung)

Übertrage die Aufgaben aus den Tabellen unten in die freien Felder und rechne sie aus! Male rechts im Kontrollbild alle Felder mit den Lösungszahlen farbig aus! Wenn du alles richtig rechnest, entsteht im Kontrollbild ein symmetrisches Muster.

·	70	50	90	-
5			5	30
6	4		2	40
7		6	3	30
8	1			40

·	60	40	80	-
5	8	9		30
6			10	40
7		11	7	30
8		12		40

1	$8 \cdot 70 - 40 = 520$	2	$6 \cdot 90 - 40 = 500$
3	$7 \cdot 90 - 30 = 600$	4	$6 \cdot 70 - 40 = 380$
5	$5 \cdot 90 - 30 = 420$	6	$7 \cdot 50 - 30 = 320$
7	$7 \cdot 80 - 30 = 530$	8	$5 \cdot 60 - 30 = 270$
9	$5 \cdot 40 - 30 = 170$	10	$6 \cdot 80 - 40 = 440$
11	$7 \cdot 40 - 30 = 250$	12	$8 \cdot 40 - 40 = 280$

Kontrollbild

