

Die Moldau – Bilder und Musik eines Flusses

In neun musikalischen Bildern hat Bedřich Smetana die Moldau beschrieben:

Bauernhochzeit – Die erste Quelle der Moldau – Wald – Die Moldau strömt durch Prag breit dahin – Mondschein – Jagd – Nymphenreigen – Die zweite Quelle der Moldau – St.-Johann-Stromschnellen

Hier stimmt etwas nicht!

Schreibe die Szenen in der richtigen Reihenfolge auf:

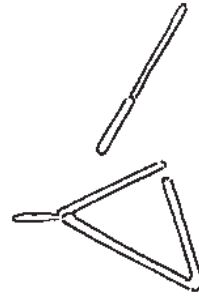


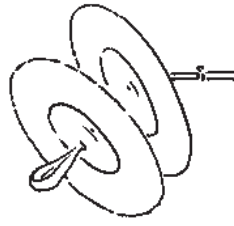
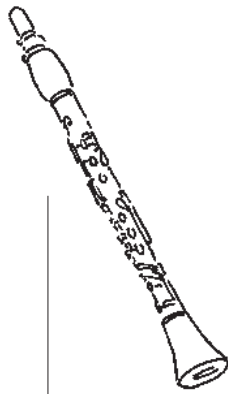
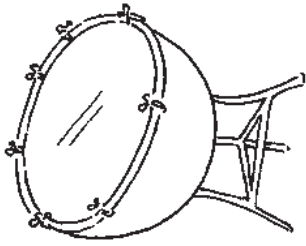
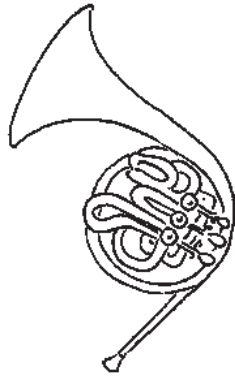
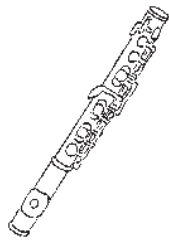
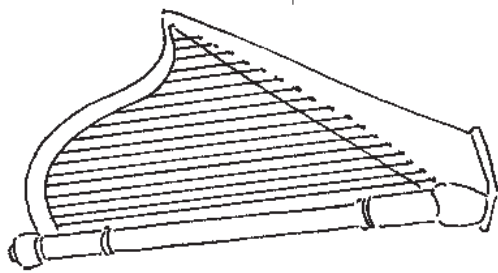
1. Die 1. Quelle der Moldau
2. Die 2. Quelle der Moldau
3. Wald
4. Jagd
5. Bauernhochzeit
6. Mondschein
7. Nymphenreigen
8. Die St.-Johann-Stromschnellen
9. Die Moldau strömt breit dahin



Das hat mir besonders gut gefallen:

Aus Bildern werden Töne – Instrumente stellen sich vor

Höre die Musik und ergänze die Namen der Musikinstrumente.



Ordne den Musikinstrumenten ihre Namen zu:

Querflöte – Piccoloflöte – Klarinette – Horn – Triangel – Becken – Pauke – Harfe – Geige (Violine) – Viola (Bratsche) – Cello – Kontrabass

Der Komponist und sein Land



© akg-images

Das ist Bedřich (Friedrich) Smetana.

* Er wurde am 2.3.1824 in Litomyšl (Ostböhmen) geboren

† Er starb am 12.5.1884 in Prag (Böhmen)

Der Komponist Smetana wurde 1824 in Böhmen geboren. Sein tschechischer Vorname ist Bedřich, sein deutscher Name Friedrich. Die Eltern erkannten das musikalische Talent ihres Sohnes und förderten es. Schon mit vier Jahren erhielt er Geigen- und Klavierunterricht. Das Komponieren brachte er sich selbst bei.

Er besuchte das Gymnasium in Pilsen und Prag. Später wurde er Musiklehrer und gründete in Prag eine Musikschule.

Er wurde ein berühmter Musiker und komponierte viele Werke. Sein bekanntestes Musikstück heißt „Die Moldau“ (tschechisch: Vltava).

Der Komponist Smetana hat die Moldau auf ihrem Weg von der Quelle bis zur Mündung begleitet. Mit Noten, Instrumenten und Melodien hat er dazu Bilder „gemalt“, und das bei völliger Taubheit. Mit 60 Jahren starb er. Auf dem Prager Friedhof wurde ihm ein Denkmal gesetzt.

Du kennst jetzt Werk und Lebenslauf von Bedřich Smetana. Worüber kannst du staunen?

Er konnte nicht mehr hören und komponierte trotzdem „Die Moldau“.

Und das ist seine Heimat: Tschechien.

Auf der Landkarte siehst du das Heimatland von Bedřich Smetana.

Die Moldau ist der größte tschechische Fluss. Sie fließt von Süd nach Nord durch Böhmen. Ihre beiden Quellflüsse, die warme und die kalte Moldau, entspringen in den Bergen des Böhmerwaldes nahe der deutschen Grenze. Die Moldau fließt über 430 km durch das Land und mündet schließlich in die Elbe.

Male die Karte an:


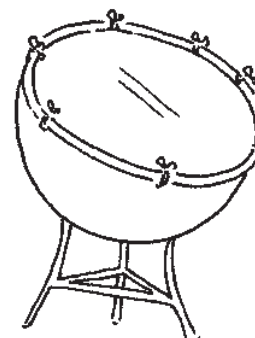
- braun: die Gebirge
- blau: den Lauf der Moldau von den Quellen bis zur Mündung
- rot: die Städte Pilsen und Prag



Abschlussquiz: Die Moldau

Kreuze das Richtige an. Viel Spaß und Erfolg!

- Smetana lebte von 1824 bis 1884.
- Smetana lebte von 1924 bis 1984.
- Er wurde 50 Jahre alt.
- Er wurde 60 Jahre alt.
- Sein Grab findest du auf einem Friedhof in Prag.
- Sein Grab findest du auf einem Friedhof in Paris.
- Smetana hat die Moldau in 9 musikalischen Bildern beschrieben.
- Smetana hat die Moldau in 14 musikalischen Bildern beschrieben.
- Das 5. Bild erzählt von Mondschein und Nymphenreigen.
- Das 5. Bild erzählt von einer Bauernhochzeit.
- Zur Bauernhochzeit erklingt eine Polka.
- Zur Bauernhochzeit erklingt ein Rap.
- Mit Querflöten, Klarinetten und Triangeln werden Quellen dargestellt.
- Mit Querflöten, Klarinetten und Triangeln wird eine Jagdszene dargestellt.
- Hörner ertönen beim Elfentanz.
- Hörner ertönen zur Jagd.
- Piccoloflöte, Pauken und Becken erzählen von gefährlichen Stromschnellen.
- Piccoloflöte, Pauken und Becken erzählen von dichten Wäldern.
- Die Stromschnellen im Fluss heißen St. Johann.
- Die Stromschnellen im Fluss heißen St. Martin.
- Harfe und Streicher erklingen zum Mondschein und Elfentanz.
- Harfe und Streicher erklingen zur Königsstadt Prag.
- Das Musikstück endet ganz sanft.
- Das Stück endet mit zwei lauten Schlussakkorden.



Wenn du alles weißt, kannst du 26 Punkte bekommen.

Du hast _____ von 26 Punkten erreicht.